

أنا بطل حافظ  
لجدول الضرب

$$\square = 5 \times 4$$

$$\square = 6 \times 6$$

$$\square = 1 \times 45$$

(أ) أوجد الناتج :

$$\square = 6 \times 5$$

$$\square = 4 \times 4$$

$$\square = 3 \times 8$$

$$\square = 0 \times 7$$

$$\begin{array}{r} 7 \\ 2 \times \\ \hline \square \end{array}$$

$$\begin{array}{r} 9 \\ 9 \times \\ \hline \square \end{array}$$

$$\begin{array}{r} 8 \\ 1 \times \\ \hline \square \end{array}$$

أوجد ناتج :

$$\dots\dots\dots = 3 \times 2 - 9$$

$$\dots\dots\dots = 5 + 4 \times 5$$




تذكر : بطلنا الضرب  
ونبدأ به دائما قبل  
الجمع أو الطرح

أجب عما يأتي

(١) كم عدد العجلات في ٧ دراجات ؟  
عدد العجلات في ٧ دراجات = \_\_\_\_\_

(٢) للفراشه ٦ أرجل كم عدد أرجل ٩ فراشات ؟  
\_\_\_\_\_

أكمل مستعينا بالمفتاح للتمثيل البياني بالصور

العدد	الكوكيز المفضل	
		كوكيز بالشكولاته
		كوكيز بالشكولاته البيضاء
		كوكيز بالنوتيللا

كل كوكيز تمثل ٤

حوط الأجابة الصحيحة فى كل مما يلي :

(١) أي مما يلي من مضاعفات العددين ٢ ، ٥ هي

٣٢

٣٠

٥٢

(٢) يصنع محمد في اليوم ٣ بطاقات معايدة . كم بطاقة يصنعها خلال أسبوع

١٥

٩

٢١

(٢) يزيد ناتج  $٥ \times ٨$  على ناتج  $٥ \times ٧$  بمقدار

١

٥

٨

مع تمنياتي بالتوفيق

رئيسة القسم  
عذاري البطحاني

إعداد  
أ / نجلاء صلاح

